

TRIGONOMETRIE

Document proposé par Yoshi – D'autres sont disponibles sur <http://www.bibmath.net>

Il ne faut pas confondre sinus d'un angle, cosinus d'un angle et tangente d'un angle avec l'angle. Ils dépendent de l'angle mais ne lui sont pas égaux : la mesure de l'angle s'exprime avec une unité, mais sinus d'un angle, cosinus d'un angle et tangente d'un angle n'ont pas d'unités, ce sont les quotients des longueurs de 2 côtés.

Sinus, Cosinus et Tangente servent pour

1. Le calcul d'un angle

Avec le Sinus

$$\sin \hat{C} = \frac{AB}{BC} = \frac{3}{5} = 0,6$$

$$\text{D'où } \hat{C} \approx 36,9^\circ$$

Avec le cosinus

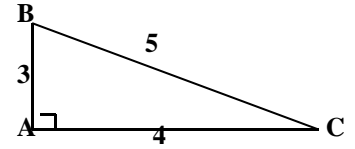
$$\cos \hat{C} = \frac{AC}{BC} = \frac{4}{5} = 0,8$$

$$\text{D'où } \hat{C} \approx 36,9^\circ$$

Avec la tangente

$$\tan \hat{C} = \frac{AB}{AC} = \frac{3}{4} = 0,75$$

$$\text{D'où } \hat{C} \approx 36,9^\circ$$



Mais et si on ne connaît que 2 des côtés ? Il suffit d'utiliser l'une des 3 méthodes ci-dessus.

Par rapport à l'angle cherché, si l'on connaît

Côté opposé
et
Hypoténuse } On utilise le **sinus**

Côté adjacent
et
Hypoténuse } On utilise le **cosinus**

Côté opposé
et
Côté adjacent } On utilise la **tangente**

2. Le calcul de la longueur d'un côté.

Recherche de la longueur d'un côté de l'angle droit connaissant un angle et l'hypoténuse.

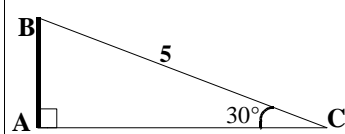
On se pose la question : suivante :

« Comment est placé le côté dont je cherche la longueur, par rapport à l'angle ? »

Réponse :

« C'est le côté **opposé** ! »

On utilise donc le **sinus**



$$\sin \hat{C} = \frac{AB}{BC}$$

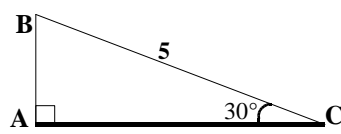
$$\sin 30^\circ = \frac{AB}{5} \text{ donc :}$$

$$AB = 5 \times \sin 30^\circ = 5 \times 0,5$$

$$AB = 2,5$$

« C'est le côté **adjacent** ! »

On utilise donc le **cosinus**



$$\cos \hat{C} = \frac{AC}{BC}$$

$$\text{donc } \cos 30^\circ = \frac{AC}{5}$$

$$AB = 5 \times \cos 30^\circ \approx 5 \times 0,8666 \dots$$

$$AB \approx 4,33$$

Recherche de la longueur de l'hypoténuse connaissant un angle et un côté de l'angle droit.

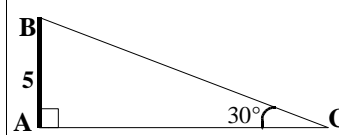
On se pose la question : suivante :

« Comment est placé le côté de l'angle droit par rapport à l'angle connu ? »

Réponse :

« C'est le côté **opposé** ! »

On utilise donc le **sinus**



$$\sin \hat{C} = \frac{AB}{BC}$$

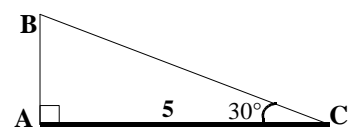
$$\text{donc } \sin 30^\circ = \frac{5}{BC}$$

$$\text{D'où } BC = \frac{5}{\sin 30^\circ} = \frac{5}{0,5}$$

$$BC = 10$$

« C'est le côté **adjacent** ! »

On utilise donc le **cosinus**



$$\cos \hat{C} = \frac{AC}{BC}$$

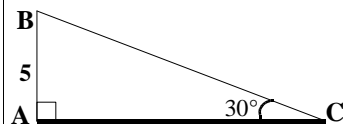
$$\text{donc } \cos 30^\circ = \frac{5}{BC}$$

$$BC = \frac{5}{\cos 30^\circ} \approx \frac{5}{0,866 \dots}$$

$$BC \approx 5,77$$

Recherche de la longueur d'un côté de l'angle droit connaissant la longueur de l'autre côté de l'angle droit et un angle

Là, pas de question à se poser, il faut utiliser la tangente : en effet, ici, l'hypoténuse n'intervient pas.

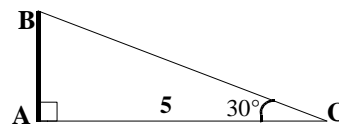


$$\tan \hat{C} = \frac{AB}{AC}$$

$$\text{donc } \tan 30^\circ = \frac{AB}{AC}$$

$$\text{D'où } AC = \frac{5}{\tan 30^\circ} \approx \frac{5}{0,577 \dots}$$

$$AC \approx 8,66$$



$$\tan \hat{C} = \frac{AB}{AC}$$

$$\text{donc } \tan 30^\circ = \frac{AB}{5}$$

$$AB = 5 \times \tan 30^\circ \approx 5 \times 0,577 \dots$$

$$AB \approx 2,89$$

Dans certains cas, on divise un nombre par sin, cos ou tan et d'autres fois on divise ce nombre par sin, cos, tan...

Vous vous trompez régulièrement ? Dans ce cas, cette petite astuce devrait vous aider :

$$\tan 30^\circ = \frac{5}{AC} \rightarrow \frac{\tan 30^\circ}{1} = \frac{5}{AC} \text{ ou encore } \sin 30^\circ = \frac{AB}{5} \rightarrow \frac{\sin 30^\circ}{1} = \frac{AB}{5}$$

Utilisez ensuite les "produits en croix"